


# Anbefalte nettsider

Ved å trykke på bildene kommer du inn på sidene.



Her kan du skrive inn tekster. Det som er fint med denne siden, er at du kan få opplest det du har skrevet.

Det er viktig å lese bøker.



**E-bibliotek – gå inn på fanen øverst på siden. Du kan bruke bokhylla.no og bildebokhylla.no og lese bøker på nettet.**

av Jorunn Hegdal | mar 16, 2020

<http://bokhylla.no> <http://bildebokhylla.no>




**Lesekroken.no**  
eventyr på ditt og mitt språk

Publikumspassord:

[Barnesanger](#) [Eventyrverksted](#) [For bibliotek](#) [Karaoke](#) [Kontakt](#) [Lesekroken](#) [Publikumspassord](#) [Språk](#) [Shop](#)

Info om Lesekroken.no - publikumspassort biblio

Her finner du også eventyr på mange språk.



Brukernavn: sok5656 og passord: sei

Her finner du mange forskjellige fag.



Hvor rask er du til å regne? Du bestemmer selv hva slags regnestykker du skal få og hastigheten. For hastigheter ingen og middels får du se et treningsbevis, mens den raske hastigheten kan gi deg et diplom.

trinn 1

trinn 2

trinn 3

trinn 4

---

Her kan du øve på forskjellige regnestrategier.

# Sider vi jobber med nå:

11

Addisjon og subtraksjon

## 7. Addisjon og subtraksjon med oppstilling

$107 + 70 = 567$   
 $107 + 100 = 567 - 300$   
 $1 + 253 = 107 + 572 = 567 - 355 =$   
 $324 - 121 = 107 + 352 = 567 - 222 =$   
 $324 - 104 = 107 - 17 = 567 - 167 =$

Regn ut:

$180 - 300 = \dots$   $180 + 10 = \dots$   $180 + 2 = \dots$   
 $216 + 90 = \dots$   $216 + 100 = \dots$   $216 - 10 = \dots$

Regn ut:

235	465	621	532
+ 3	+ 30	+ 300	+ 32
238	495	921	564

Øve 1 side 30

$324$   
 $- 213$   


---

 $547$   
 $- 325$   


---

 $935$   
 $- 603$   


---

Pluss opp en del 100 valnøtter og 200 bær på markedet. Hvor mange personer er det på markedet til sammen? 100 egg. Regn ut. Svar: \_\_\_\_\_

Pluss bruker 32 kroner på markedet. Løren bruker 200 kroner mer enn Pluss. Hvor mange kroner bruker Løren på markedet? 100 egg. Regn ut. Svar: \_\_\_\_\_

Verdig er det 200 valnøtter og 100 bær på markedet. Hvor mange kroner er det på markedet? Pluss ut. Svar: \_\_\_\_\_

Øve 2 side 31

267	639	543	687
+ 326	+ 232	+ 285	+ 281
593	871	828	968

Vil du kjøpe 10 kroner? 10 kroner  
10 kroner

Vil du kjøpe 100 kroner? 100 kroner  
100 kroner

Regn ut. Vis hvordan du velger:

100 egg. Regn ut.  $183 + 162 = 805 + 100 = 651 + 7 =$

Øve 1 side 38

$335$  kr    $490$  kr

Hvor mange kroner betaler du for to bokstaver? Svar: \_\_\_\_\_

Hvor mange kroner betaler du for to bokstaver? Svar: \_\_\_\_\_

Hvor mange kroner betaler du for en bokstave? Svar: \_\_\_\_\_

Hvor mange kroner betaler du for en bokstave? Svar: \_\_\_\_\_


Hvor mange kroner betaler du for en bokstave? Svar: \_\_\_\_\_

Hvor mange kroner betaler du for en bokstave? Svar: \_\_\_\_\_

Øve 2 side 39

# Har du lyst å øve litt på musikk?

CHROME MUSIC LAB



Anbefaling av nettsider vil bli oppdatert, nå begynner med disse siden.